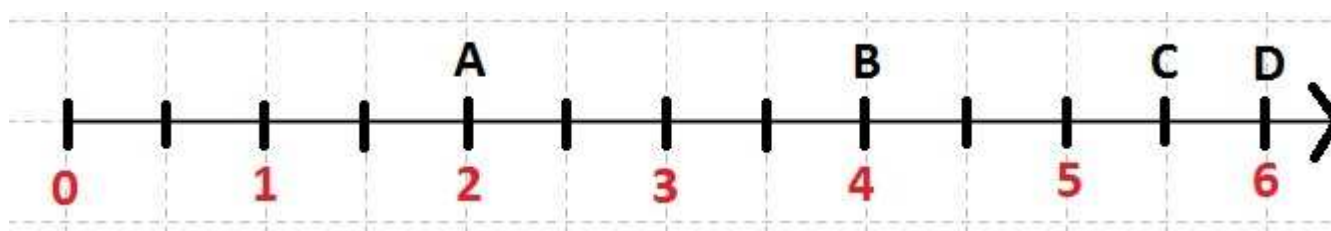


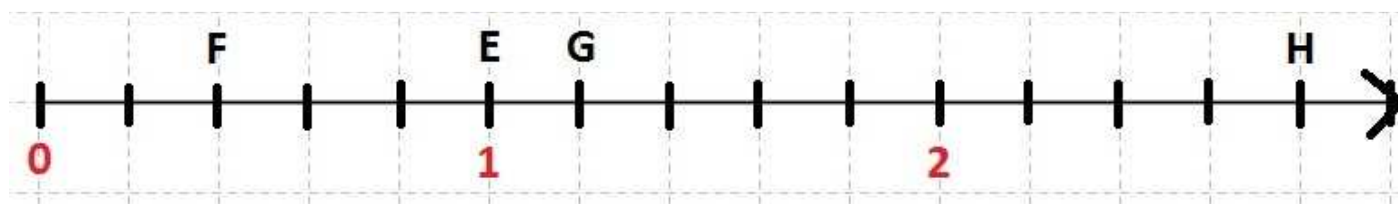
FICHE D'EXERCICES 1 – Demi-droite graduée

Pour les exercices 1 à 5, reproduire la figure puis donner l'abscisse de chaque point.

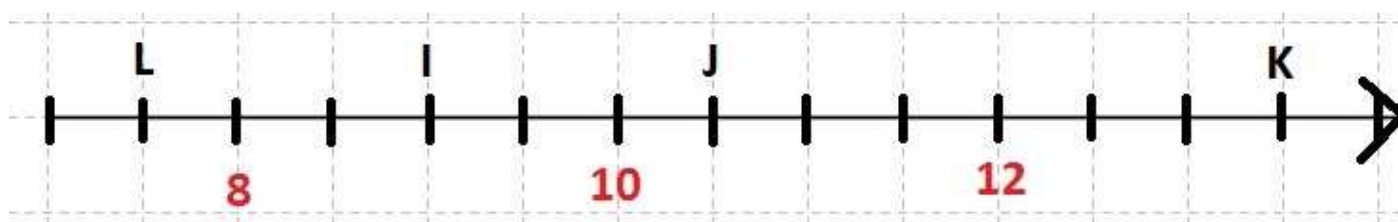
Exercice 1



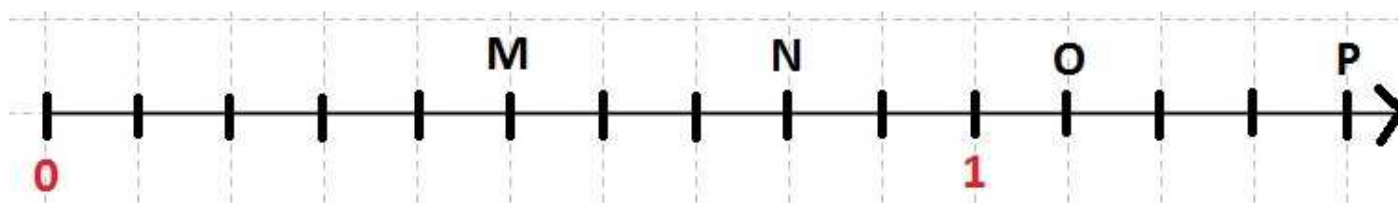
Exercice 2



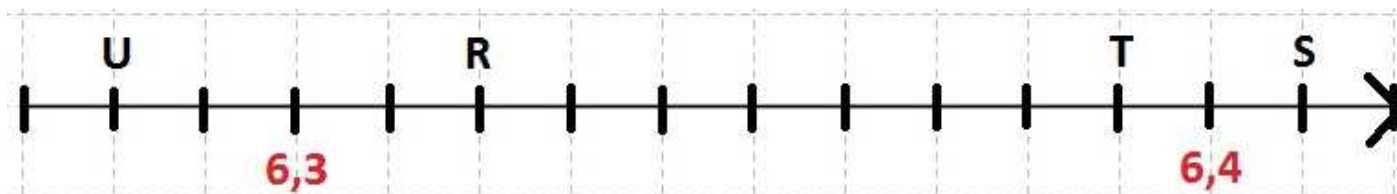
Exercice 3



Exercice 4



Exercice 5



Exercice 6

- 1) Construire une demi-droite graduée d'origine A et d'unité 1 côté de carreau.
- 2) Placer les points B, C, D et E d'abscisses respectives 8 ; 5 ; 2 et 4.

Exercice 7

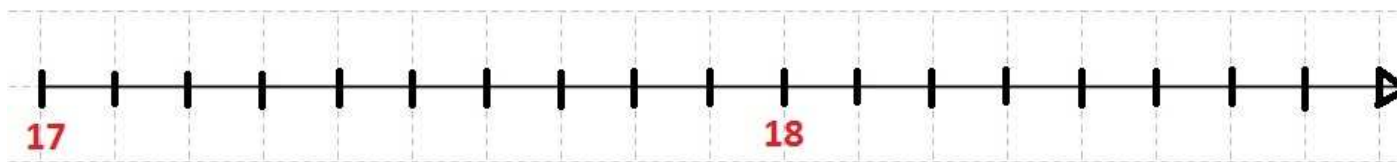
- 1) Construire une demi-droite graduée d'origine B et d'unité 4 côtés de carreau.
- 2) Placer les points A, O, R et V d'abscisses respectives 2 ; 2,5 ; 0,75 et 2,25.

Exercice 8

- 1) Construire une demi-droite graduée d'origine 0 et d'unité 1 cm.
- 2) Placer les points A, B, C, D et E d'abscisses respectives 6 ; 4,5 ; 11,2 ; 0,8 et 7,6.

Exercice 9

- 1) Reproduire la portion de demi-droite graduée ci-dessous :



- 2) Placer les points D, E et F d'abscisses respectives 17,3 ; 18,7 et 18,1.

Exercice 10

Construire une portion de demi-droite graduée d'unité 1 cm et y placer les points A, G, S, U et M d'abscisses respectives 28 ; 26,5 ; 23,5 ; 24,2 et 22,8.

Exercice 11

Construire une demi-droite graduée et y placer les points M, P, R et V d'abscisses respectives 2,5 ; 3,25 ; 0,5 et 1,75.

Aide : j'ai choisi une unité que j'ai pu facilement partager en quatre